



Questão 1

O mapa-múndi abaixo apresenta todos os continentes destacados em cores distintas. Marque a alternativa que corresponde à cor do continente africano no mapa.



- a) Vermelho
- b) Amarelo
- c) Verde
- d) Azul
- e) Preto

Questão 2

Analise as alternativas sobre o continente africano e marque (V) para as verdadeiras e (F) para as falsas.

- a) () Com extensão territorial de 30,1 milhões de quilômetros quadrados, a África é o maior continente do planeta.
- b) () O continente africano é subdividido em África Mediterrânea e África Subsaariana, sendo o islamismo o divisor cultural e o deserto do Saara a barreira natural.
- c) () Vários países da África apresentam problemas socioeconômicos: baixo IDH, elevadas taxas de mortalidade infantil, baixa expectativa de vida, altos índices de analfabetismo e subnutrição.
- d) () A linha do Equador corta o continente africano na porção centro-sul, fazendo com que todo o território pertença ao Hemisfério Setentrional.
- e) () São países que integram o continente africano: África do Sul, Nigéria, Camarões, Jamaica, Angola e Somália.

Questão 3

O continente africano sofreu (e ainda sofre) com várias políticas ditatoriais. Muitas delas foram financiadas por países europeus e pelos Estados Unidos, principalmente durante a Guerra Fria. Um dos regimes mais violentos foi o apartheid, que se caracterizou por uma política racial imposta pela população branca (minoridade) sobre os habitantes negros (maioria). Marque a alternativa que corresponde ao país africano que foi palco do regime apartheid.

- a) Ruanda
- b) Haiti
- c) Nigéria
- d) Somália
- e) África do Sul

Questão 4

PUC-RIO.

"O continente condenado"
"África em chamas"

As manchetes que atualmente são publicadas sobre a África, como as apresentadas acima, expressam o trágico quadro socioeconômico desse continente. Assinale a opção que NÃO inclui um aspecto desse quadro.

- a) A baixa expectativa de vida de grande parte da população.
- b) O número significativo de africanos contaminados com a AIDS.
- c) Os conflitos e guerras tribais envolvendo nações africanas.
- d) As guerras civis estimuladas pelas potências imperialistas europeias.
- e) O contingente de africanos fora de seus países de origem, em busca de trabalho.

Questão 5

(FUVEST) No processo de ocupação da África Negra pelos europeus surgiu um tipo étnico chamado afrikander descendente de:

- a) holandeses e alemães, ligados a Igreja Reformada Holandesa
- b) portugueses e espanhóis, de formação católica
- c) ingleses belgas, de formação anglicana
- d) alemães e belgas, ligados a Igreja Anglicana Reformada
- e) dinamarqueses e holandeses, de formação calvinista

Questão 6

Do ponto de vista demográfico a República Sul-Africana é um país predominantemente habitado por:

- a) afrikanders
- b) indianos
- c) brancos
- d) negros
- e) mestiços

Questão 7

Recentemente o líder líbio Muamar Kadafi propôs a união de seu país com Marrocos. Assinale a alternativa que contenha uma característica comum aos dois países:

- a) elevada produção de petróleo
- b) mesmo regime político
- c) fronteiras comuns
- d) renda per capita bastante elevada
- e) identidades étnicas e culturais

Questão 8

(UNIP) Na África do Sul ocorre uma violenta segregação racial onde a minoria branca domina, política, social e economicamente a grande maioria negra. Essa segregação tem prejudicado as relações econômicas da África do Sul com os países americanos e europeus. É conhecido como:

- a) Semitismo
- b) Apartheid
- c) Afrikander
- d) Fetichismo
- e) Boers

Questão 9

(UNESP) O termo "africanização" designa países que, mesmo não pertencendo ao continente africano, apresentam as seguintes características: fome crônica, elevada dependência de ajuda humana externa e mortalidade causada por doenças já erradicadas na maioria dos países. Assinale a alternativa que contém todos os países que se enquadram nessa classificação.

- a) Etiópia, Somália, Ruanda, Moçambique, México
- b) Bangladesh, Haiti, Colômbia, Etiópia, Somália
- c) Moçambique, Ruanda, Panamá, Somália, Haiti
- d) Etiópia, Somália, Bangladesh, Haiti, Ruanda
- e) Somália, Ruanda, Turquia, Bangladesh, Haiti

Questão 10

(UNIP) É o maior país produtor de petróleo da África do Norte, cuja exploração é feita no deserto do Saara. Trata-se do(a):

- a) Marrocos
- b) RAU
- c) África do Sul
- d) Zaire
- e) Líbia

Questão 11

(CESGRANRIO) A África dispõe para um futuro processo de industrialização de grandes concentrações de recursos naturais exceto:

- a) extração florestal
- b) petróleo
- c) carvão
- d) cobre
- e) diamante

Questão 12

(UNIFICADAS) A opinião pública internacional, constantemente, se vê abalada pelas notícias sobre o fantasma da fome que ameaça a milhões de africanos. A interrupção da produção por guerras civis e golpes de estado é uma das causas. Mas, também, há o risco de que a fome se alastre, em virtude do avanço de processos de desertificação, o que se verifica, já em estado avançado, na área imediatamente ao sul do Saara, conhecida como:

- a) Atlas
- b) Sahel
- c) Kalahari
- d) Magreb
- e) Benguela

Questão 13

(FGV) Nos últimos anos intensificou-se o processo de libertação dos países mais ricos da África, sendo bastante reduzida a dominação branca. São exemplos dessa dominação:

- a) Líbia e Moçambique
- b) Etiópia e Marrocos
- c) República da África do Sul
- d) Somália e Nigéria
- e) Egito e Zaire

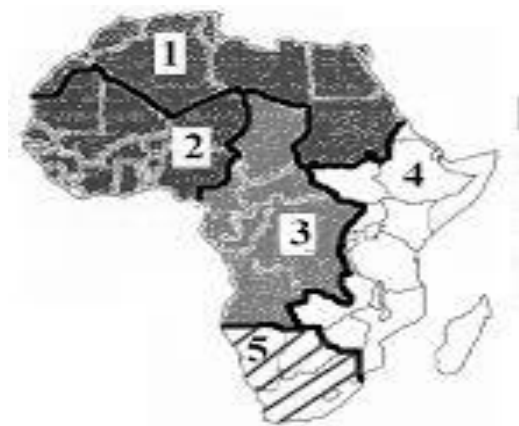
Questão 14

Considere as afirmativas e marque (V) para as corretas e (F) para as falsas.

- a) () A subdivisão do continente africano é composta pela África Mediterrânea e a África Subsaariana, sendo que a primeira está localizada na porção sul do continente.
- b) () O fator natural responsável pela subdivisão do continente africano é do deserto do Saara. Os países que formam a África Subsaariana estão localizados ao sul desse deserto.
- c) () A África Subsaariana ocupa maior extensão territorial do continente, além de possuir o maior número de habitantes, predominantemente brancos. Os países dessa porção da África apresentam vários problemas socioeconômicos.
- d) () A população da África Mediterrânea possui características culturais semelhantes aos povos do Oriente Médio, sendo o Islamismo a religião com o maior número de adeptos.
- e) () A subnutrição, os confrontos entre diferentes grupos étnicos e a aids são os principais responsáveis pela baixa expectativa de vida dos habitantes da África Subsaariana.

Questão 15

O mapa abaixo é do continente africano. Com cerca de 30,2 milhões de km quadrados, a África é o terceiro continente mais extenso da superfície terrestre menor que a Ásia e a América. Coloque os números com relação a cada subdivisão geográfica do continente.



- () África Setentrional
- () África Ocidental
- () África Central
- () África Oriental
- () África Meridional

Questão 16

A presença de um estrato arbóreo-arbustivo e outro herbáceo, as folhas coriáceas e peludas e em algumas espécies semidecíduas e os troncos tortuosos caracterizam:

- a) as florestas latifoliadas.
- b) as pradarias.
- c) a tundra.
- d) as florestas de coníferas.
- e) as savanas.

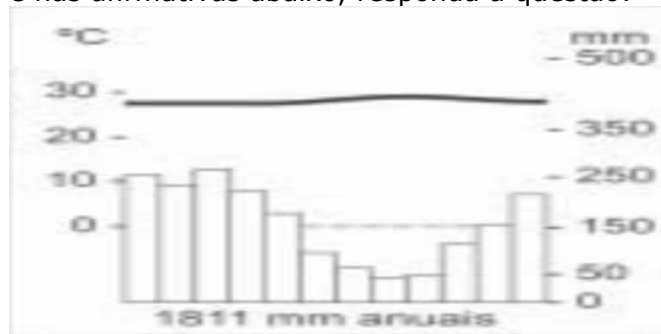
Questão 17

Na África, encontramos diversos tipos de vegetação, adaptadas às variações climáticas, mas o tipo de vegetação mais característico desse continente, que abrange 40% de sua área e que chegou até mesmo a ser divulgado por meio de filmes e de histórias em quadrinhos de conteúdo colonialista, como Tarzan e Fantasma, é a:

- a) Floresta equatorial
- b) Estepe
- c) Savana
- d) Vegetação desértica
- e) Vegetação mediterrânea

Questão 18

(PUC - RS - adaptado) Baseado no climograma e nas afirmativas abaixo, responda a questão:

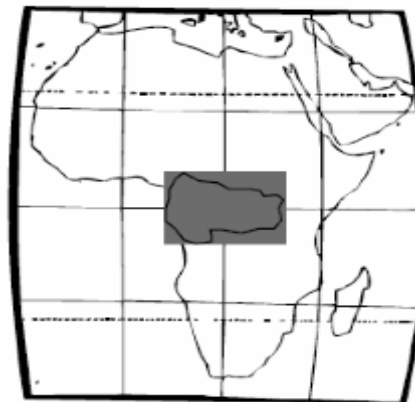


- I. Trata-se de um clima subtropical úmido com maiores concentrações pluviométrica no verão, superando os mil milímetros anuais.
 - II. Refere-se a um clima de baixa amplitude térmica, com grande pluviosidade anual.
 - III. Nas áreas em que predomina esse clima, é produzido trigo, com excelente produtividade.
 - IV. O clima representado é denominado de Equatorial, existindo nestas áreas uma vegetação do tipo hidrófila e latifoliada, combinando-se para a formação da Floresta Equatorial.
- Estão corretas as afirmativas
- a) I e III.
 - b) II e IV.
 - c) III e IV.
 - d) I, II e III.
 - e) I, II e IV.

Questão 19

(UFPE)

O continente africano possui inúmeras características semelhantes às observadas no Brasil, sobretudo no que se refere às características naturais. Por exemplo, a área escura no mapa a seguir apresenta um tipo climático encontrado numa das regiões brasileiras e denominado:



- a) Clima subtropical.
- b) Clima subtropical de altitude.
- c) Clima temperado.
- d) Clima equatorial.
- e) Clima semi-árido.

Questão 20



(UFRR) "Até o final da década de 80, existiam na África treze conflitos regionais (Angola, Etiópia, Libéria, Sudão, Chade, entre outros). Um ano depois, esse número diminuiu para seis, diante dos altos custos de sua manutenção. Com o relaxamento das tensões EUA-URSS (distensão), os países africanos também deixaram de ser o desencilhe de armas convencionais dos dois países. Entre 1984 e 1987, as despesas militares diminuíram de 5,2% do PNB, acumulado dos países em conflito para cerca de 4,3%. O cenário que resulta é desolador. Destruição econômica e destruição social, com a disseminação da fome e da epidemia da Aids."

(OLIVA, J. e GIANANTI, R. Espaço e modernidade: temas da geografia mundial. São Paulo: Atual, 1995).

Os conflitos existentes na África, juntamente com a fome e as epidemias, são elementos que constituem o triste cenário deste continente.

Entre as explicações para compreendermos a existência dessas intermináveis guerras regionais, podemos apontar que:

a) A atual disputa pelo potencial mercado de alimentos impulsiona as grandes potências africanas a investirem maciçamente na produção e venda de armamentos.

b) O continente africano exerce importante papel estratégico nas relações políticas e ideológicas entre os países que compõem os blocos econômicos mundiais.

c) Os conflitos ocorrem por conta do interesse de diversas tribos, em constituírem um espaço comum africano para agregar as diversas comunidades em um mesmo grupo étnico-linguístico cultural.

d) As atuais fronteiras foram traçadas pelos colonizadores europeus sem respeitar a antiga organização tribal e a distribuição geográfica das etnias no continente.

e) As comunidades étnicas optaram por entrar em conflitos armados, estimulados pela inserção do capitalismo neoliberal e, principalmente, por conta dos diversos produtos industrializados disponíveis nos mercados africanos.