



PROFESSOR

Eulália Santos

DISCIPLINA

MATEMÁTICA

TURMA

101

ALUNO


SIMULADO

COLÉGIO MARQUES RODRIGUES

Estrada da Água Branca, 2551 - Realengo - RJ
Tel: (21) 3462-7520 - www.colegiomr.com.br

Questão 1:

Coloque as números em ordem crescente.



Questão 2:

Complete os conjuntos até que todos fiquem com 20 unidades.

Questão 3:



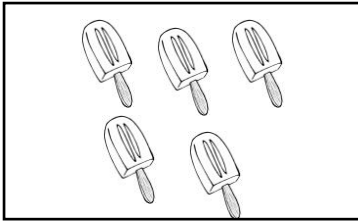
Agrupe 10 elementos e indique quantas dezenas e quantas unidades há.

D U

D U

Questão 4:

Marque o conjunto que possui meia dezena.



Questão 5:

Circule apenas os números ímpares.

1 - 2 - 3 - 4 - 5 - 6 - 7 - 8 - 9

Questão 6:

Responda:

a) Todos números par terminam em 0, 2, 4, 6, ou 8.

sim ou não



b) Qual a sua idade? _____

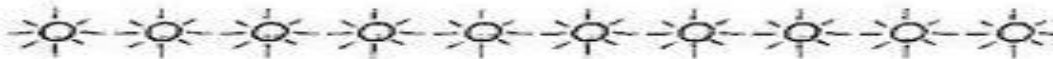
c) A sua idade é par ou ímpar? Circule.

par ímpar

Questão 7:

Circule de dois em dois e escreva se cada grupo é par ou ímpar.















Questão 8:

Observe a imagem e responda as perguntas:



- a) Quantos jogadores têm na cena? _____
- b) Quantos jogadores estão abaixados? _____
- c) Na Primeira coluna o segundo jogador tem qual número de camisa? _____
- d) Qual é o resultado da soma da camisa 11 com a camisa 7?

- e) Pinte a camisa que tem o resultado de $10-3$
- f) Agora circule a camisa do jogador que indica meia dúzia.

Questão 9:

Calcule as parcelas corretamente:

+45	+66	+12	+13	+33	+41
12	11	22	33	22	05
<input type="text"/>	<input type="text"/>	<input type="text"/>	<input type="text"/>	<input type="text"/>	<input type="text"/>

+55	+44	+88	+33	+54	+73
12	13	11	33	10	00
<input type="text"/>	<input type="text"/>	<input type="text"/>	<input type="text"/>	<input type="text"/>	<input type="text"/>