

COLÉGIO MARQUES RODRIGUES

Estrada da Água Branca, 2551 – Realengo – RJ
Tel: (21) 3462-7520 – www.colegiomr.com.br

Questão 1:

Veja a planta que cresce no vaso:

Se a Terra ficasse escura, sem a luz do sol. O que aconteceria?



A planta continuaria a crescer.


A planta morreria.

Questão 2:


Ligue os astros aos seus nomes:



Sol





Terra



Lua

Questão 3:

Pinte o satélite natural da Terra.




Questão 4:

Nas situações abaixo escreva se elas ocorrem durante o dia ou à noite.



Questão 5:

Encontre as palavras no diagrama.



SOL



LUA



ESTRELA



TERRA

M	T	V	L	U	A	T	C	A
J	E	G	S	B	H	Z	Z	D
L	R	I	M	S	P	P	R	S
A	R	M	U	O	P	Z	R	T
C	A	M	U	L	S	X	O	P
E	S	T	R	E	L	A	Ç	H

Questão 6:

Agora escreva o nome do planeta que você vive e que está no diagrama:

Questão 7:

Marque a resposta correta.

a) A Terra gira em torno:

da Lua

do Sol

as estrelas


b) O lado da Terra virado para o Sol é:

dia

noite

Questão 8:

Marque com um X a imagem que foi modificada pelo homem.



Questão 9:

Circle o ambiente em que você vive.



Cidade



Tribo Indígena



Campo

Questão 10:

Circule os seres que precisam da luz solar, para sobreviver.



Questão 11:

Pinte o equipamento chamado luneta usada pelos cientistas.



Questão 12:

Ligue os meios de transportes espaciais aos seus nomes.

Foguete

Ônibus Espacial



Questão 13:

Uma cachorrinha foi usada pelos cientistas para viajar no espaço antes do homem. Envolva o nome dela.



Laika



Mayla

Questão 14:

O primeiro cientista a viajar no espaço foi? Pinte o quadro que mostra a resposta correta:

Russo

Americano

Questão 15:

Como você imagina o planeta Terra visto de espaço? Desenhe abaixo:



Questão 16:

Há dois tipos de água no nosso planeta. Escreva os dois tipos na linha abaixo:

_____ e _____

Questão 17:

Onde são encontradas as águas salgadas? _____

Questão 18:

Complete:

A água doce é considerada própria para a _____

Consumo ou Resumo

Questão 19:

Envolva os animais que usam a água salgada para sobreviver.



Questão 20:

Descubra o sentido da frase, abaixo e a reescreva:

O  , a  e a  fazem parte do sistema solar.
