



PROFESSOR

Eulália Santos

DISCIPLINA

HISTÓRIA

TURMA

101

ALUNO

SIMULADO

COLÉGIO MARQUES RODRIGUES

Estrada da Água Branca, 2551 – Realengo – RJ
Tel: (21) 3462-7520 – www.colegiomr.com.br

Questão 1:

Escreva os nomes de três frutas que você mais gosta de comer:

_____ , _____ , _____

Questão 2:

Trace a boneca de pano criada por Monteiro Lobato.



Questão 3:

Com atenção decifre o enigma e descubra o nome de Tiradentes.

J=	■	A=	▬	O=	□	I=	▩	S=	▮	D=	▯	X=	▧
Q=	▨	U=	▫	M=	▬	V=	▮	L=	▯	R=	▯	E=	▧



■	□	▬	▨	▫	▬	▧
□	□	□	□	□	□	□
■	□	▯	▧	▯	▯	▬
□	□	□	□	□	□	□
▯	▬	▬	▮	▬	▮	▮
□	□	□	□	□	□	□
▧	▬	▮	▬	▧	▯	▯
□	□	□	□	□	□	□

Questão 4:

Envolva o que você mais gosta, e o que você não gosta trace.



Questão 5:

Dudu quer saber como você é. Mostre para ele marcando um X

Meminho

Inteligente

Triste


Amigo

Feliz


Educado


Memina

Chorrão



Questão 6:

Observe as imagens e desenhe no quadro ao lado a imagem de para o dia e da  para noite.



Questão 7:

Responda:

a) Qual refeição você faz pela manhã? Marque.

café da manhã ou Chá da manhã

b) Você estudar em qual hora do dia?

manhã tarde noite

c) Normalmente dormimos durante a:

noite pela noite madrugada

Questão 8:

HORA DE INTERPRETAR

① QUEM ERA BEBEL? PINTE-A ABAIXO.



② MARQUE UM X NA EXPRESSÃO QUE REPRESENTA COMO BEBEL ESTAVA SE SENTINDO.



③ COM QUEM BEBEL ESTAVA CONVERSANDO?



Questão 9:

Segundo a história do Brasil, no dia 19 de abril comemora-se o dia do? Trace com o lápis marrom a figura que corresponde a resposta.



Questão 10:

Coleque **C** para certo e **E** para errado.

- () Pedro Álvares Cabral não descobriu o Brasil.
- () O Brasil foi descoberto em 22 de abril de 1500.
- () O nome da embarcação que trouxe os navegantes era caravelas.

Questão 11:

Observe a foto número 1.



a) Os homens estão?

trabalhando divertindo-se

b) Este ônibus é antigo ou atual?

atual antigo

Questão 12:

Associe esta imagem abaixo com a imagem da questão 11. Circule duas diferenças entre elas



O ônibus da questão 11 é menor.

Os dois ônibus tem motorista.

O ônibus da questão 12

é informatizado e o da questão 11 não.

Questão 13:

Desenhe no espaço o brinquedo que foi criado na china há mais de 3,200 anos



Questão 14:

Dual o nome deste brinquedo que você desenhou na questão acima?

Questão 15:

A pipa é conhecida por outros nomes. Cite dois destes nomes:

Questão 16:

Costumamos cumprimentar, pela manhã os membros familiares com:

faça um **X**

Bom tarde

Bom Noite

Bom dia


Questão 17:

Continue e decifre o que a Mônica vai fazer:

Cascão solta _____




E Mônica bebe? Decifre o enigma e responda.



Questão 18:

Pinte de azul a fase da vida que você está agora, na imagem a seguir.



Questão 19:

Com a ajuda da mamãe complete as lacunas.

Dia de seu nascimento: ____/____/____
Onde você nasceu: _____
Seu peso quando você nasceu: _____

Questão 20:

Estas crianças aderam brincar na praçinha. E você gosta de brincar onde? Desenhe ao lado o local que você gosta de brincar.

