

PROFESSOR ELIANE GONÇALVES	DISCIPLINA GEOGRAFIA	SIMULADO: P1
ALUNO		TURMA 501

O SISTEMA SOLAR

Questão 1:

Observe o sistema solar e responda:



- a) Os astros do _____ formam grupos que são conhecidos como _____
- b) A galáxia em que vivemos chama-se _____
- c) O sistema solar é formado por uma _____, o _____ e ao seu redor encontramos, _____, _____, _____, _____ e outros astros.
- d) O sistema solar é composto por _____ planetas, que são _____, _____, _____, _____, _____, _____, _____.

Questão 2:


Faça o desenho das 4 fases da Lua, colocando seus nomes.

Questão 3:

Diga quais são os fenômenos criados pelos movimentos da Lua e da Terra.

Questão 4:

O desenho abaixo nos mostra a direção em que o sol nasce e se põe. Agora complete:



O sol nasce no _____
ou _____ e se põe no
_____ ou _____.

A ORIGEM DOS CONTINENTES

Questão 5:

Assinale a opção correta.

- a) Há aproximadamente 200 milhões de anos, existia um único supercontinente chamado de:
() Mesozoica () Pangeia () Paleozoica
- b) Houve uma grande explosão no universo na qual partículas de poeira e gases se espalharam gerando os planetas e os demais astros.
Este fenômeno recebeu o nome de:
() Bag Bang () Big Bang () Pangeia
- c) Para chegar a forma que vemos hoje o Planeta Terra passou por diversas mudanças que foram divididas em:
() fases () pontos () eras
- d) Na era _____ houve a formação da lava (magma) das rochas ígneas e também dos escudos cristalinos ou maciços antigos, que são formações geológicas.
() Cenozoica () Pré-Cambriana () Mesozoica

e) A era _____ é dividida em dois períodos: o Terciário e Quaternário.

() Cenozoica () Paleozoica () Mesozoica

f) Era da formação das florestas, surgiram na Terra alguns animais vertebrados, insetos e escorpiões.

() Pré-Cambriana () Cenozoica () Mesozoica

g) É muito conhecida como idade dos répteis, devido ao aparecimento dos dinossauros, além de moluscos e outros.

O fim dessa era foi marcada pela extinção dos dinossauros.

() Mesozoica () Cenozoica () Paleozoica

CONHECENDO A TERRA

Questão 6:

Estas são duas formas de representação da Terra. Identifique-as.



Agora responda:

A Terra é o planeta em que vivemos. Ela possui que forma?

Questão 7:

Explique porque a Terra vista do espaço possui mais a cor azul.

COLÉGIO MARQUES RODRIGUES – O Colégio que mais cresce no seu bairro!
CLUBE AZUL, um clube de vantagens para você! Seja um.

Questão 8:

Diga a diferença entre:

*Globo Terrestre

*Planisfério ou mapa Múndi

Questão 9:

Quem são os cartógrafos?

Questão 10:

Por que a Escala é utilizada nos mapas?

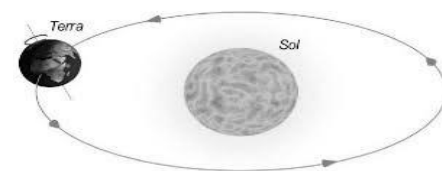
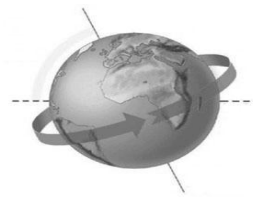
Questão 11:

Quantos e quais são os continentes da Terra?

OS MOVIMENTOS DA TERRA

Questão 12:

Explique o que está acontecendo nas figuras abaixo.



Quem realiza esses movimentos? _____

Questão 13:

Explique:

a) O que acontece no movimento de rotação?

b)O que acontece no movimento de translação?

Questão 14:

Numere a segunda coluna de acordo com a primeira.

- | | |
|-----------------|--|
| (1)ano bissexto | ()23 de setembro |
| (2)verão | ()20 de março |
| (3)outono | ()21 de dezembro |
| (4)inverno | ()21 de junho |
| (5)primavera | ()possui um dia a mais no de fevereiro. |

Questão 15:

O caminho ou trajetória feita por um astro em torno do outro é chamado de_____.