



PROFESSOR **ELIANE GONÇALVES**

DISCIPLINA **GEOGRAFIA**

SIMULADO: **P2**

ALUNO **Gabarito**

TURMA **501**

Estrada da Água Branca,
2551 – Realengo – RJ
Tel: (21) 3462-7520
www.colegiomr.com.br

O SISTEMA SOLAR

Questão 1:



a) Os pontos cardeais são:

- () Norte, Nordeste, Sudoeste, Sudeste
(X) Norte, Sul, Leste, Oeste
() Noroeste, Nordeste, Sudoeste, Sudeste

Questão 2:

Noroeste, Nordeste, Sudoeste e Sudeste são chamados de:

- (x) pontos colaterais () pontos cardeais
() pontos sub colaterais

Questão 3:

- () longitude () meridiano (x) latitude

Questão 4:

- () Meridiano de Greenwich
() Trópico de Câncer
(x) Linha do Equador

Questão 5:

Meridiano de Greenwich

Questão 6:

- a) Círculo Polar Ártico e Trópico de Câncer
b) Círculo Polar Antártico e Trópico de Capricórnio

Questão 7:

O que são paralelos?

São linhas ou circunferências imaginárias horizontais, que são traçadas paralelamente à linha do Equador.

Questão 8:

O que são meridianos?

São linhas verticais imaginárias, que atravessam o Polo Norte e o Polo Sul.

Questão 9:

Quais são as zonas climáticas da Terra?

Zona Polar Ártica, Zona Temperada do Norte, Zona Tropical, Zona Temperada do Sul e Círculo Polar Antártico.

Questão 10:

Numere corretamente.

- (3) São zonas de altas latitudes, que estão localizadas além dos círculos polares tanto no hemisfério Sul como no hemisfério Norte.
(2) São zonas localizadas nas latitudes médias, que estão entre os trópicos e os círculos polares.

(1) É a faixa das baixas latitudes onde estão localizadas as baixas latitudes, situadas entre os dois trópicos.

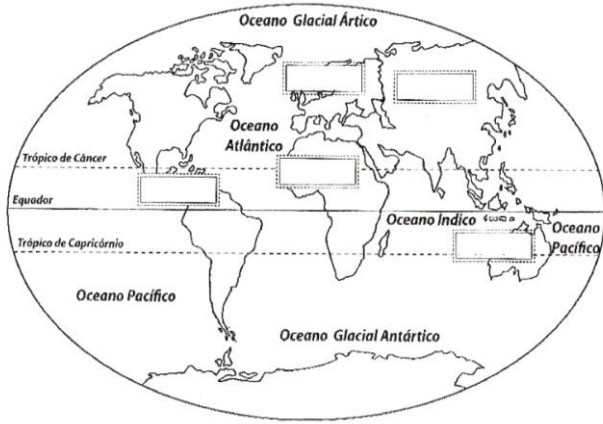
Questão 11:

Complete:

- a) Por convenção chamamos o leste de nascente e oriente, o lado em que o sol nasce pela manhã.
b) O oeste é chamado de poente e ocidente o lugar em que o sol se põe a tardinha.

Questão 12:

Observando o planisfério abaixo responda:

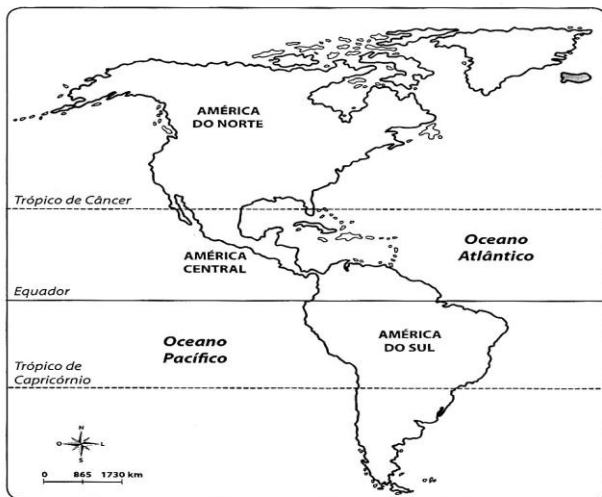


- a) Quais são os seis continentes da Terra? Coloque seus nomes no local correto no planisfério.
- b) Oceano Pacífico, Oceano Atlântico, Oceano Glacial Ártico, Oceano Glacial Antártico, Oceano Índico.
- c) Continente
- d) Porque é uma ilha.

Questão 13:

Consultando o mapa do continente americano, complete as lacunas.

Continente Americano



- a) América do Norte, América Central e América do Sul
- b) O Brasil está localizado na América do Sul.

c) A América do Sul é banhada pelos oceanos Pacífico e Atlântico.

Questão 14:

Escreva o que se pede:

- a) Brasil, Argentina, Venezuela, Paraguai, Uruguai
- b) Colômbia, Peru, Equador, Bolívia e Chile

Questão 15:

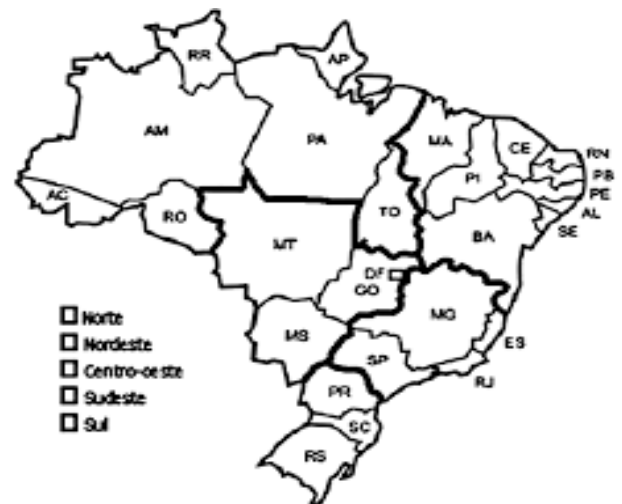
Escreva o nome dos pontos extremos do Brasil:

- *ao Norte
Localiza-se a nascente do Rio Ailã no Monte Caburaí.
- *ao Sul
O Arroio Chuí
- *a Leste
A Ponta do Seixas
- *a Oeste
A nascente do Rio Moa na Serra da Contamana

Questão 16:

No mapa político regional do Brasil, pinte de acordo com a legenda.

- (verde) região Norte
- (amarelo) região Nordeste
- (abóbora) região Centro – Oeste
- (vermelho) região Sudeste
- (lilás) região Sul



Questão 17:

O que quer dizer a sigla IBGE ?

Instituto Brasileiro de Geografia e Estatística

Questão 18:

Região Sudeste

Questão 19:

Escreva o nome dos estados e capitais da região

Sudeste.

| ESTADOS | CAPITAIS |
|----------------|----------------|
| Rio de Janeiro | Rio de Janeiro |
| São Paulo | São Paulo |
| Espírito Santo | Vitória |
| Minas Gerais | Belo Horizonte |

Questão 20:

Responda.

a)O Amazonas

b)Brasília

c)

Questão 21:

Diga a que estados as siglas abaixo pertencem.

| | |
|-------------------|---------------|
| ES Espírito Santo | PE Pernambuco |
| RJ Rio de Janeiro | MA Maranhão |
| SP São Paulo | GO Goiás |
| MG Minas Gerais | TO Tocantins |

BOM ESTUDO !!!!!